

# TRY OUT AKBAR

Ahad, 2 Maret 2008 M / 23 Shafar 1429 H

**WAKTU :  
120 Menit**

**MATEMATIKA  
BAHASA INDONESIA**


**UASBN SD  
2008**

**Tipe : B**

*Kerjakanlah dengan Jujur dan Sungguh-Sungguh, Minta Tolonglah hanya kepada Allah!  
Selamat Mengerjakan, Semoga Sukses!*

**DIVISI AKADEMIK**

(0251) 314 987, 9192557  
 e-mail: akademik@bintangpelajar.com

 **Pilihlah salah satu jawaban yang benar!**

## MATEMATIKA

- Hasil  $8 \times (500 - 478) = \dots$   
 A. 1.424                      C. 256  
 B. 624                          D. 176
- Suhu awal sebuah pendingin  $-15^{\circ}\text{C}$ . Setelah dimatikan selama 1 jam, suhunya menjadi  $5^{\circ}\text{C}$ . Perubahan suhu yang terjadi dalam pendingin adalah ...  
 A. naik  $20^{\circ}\text{C}$   
 B. turun  $20^{\circ}\text{C}$   
 C. naik  $10^{\circ}\text{C}$   
 D. turun  $10^{\circ}\text{C}$
- Hasil  $2\frac{5}{6} \times \frac{3}{5} = \dots$   
 A.  $1\frac{7}{5}$                           C.  $2\frac{7}{5}$   
 B.  $1\frac{7}{10}$                          D.  $2\frac{7}{10}$
- Urutan menurun dari pecahan-pecahan di bawah ini yang benar adalah ...  
 A.  $75\% ; 2,5 ; \frac{3}{5} ; 15\% ; \frac{1}{4}$   
 B.  $75\% ; 2,5 ; 15\% ; \frac{3}{5} ; \frac{1}{4}$   
 C.  $2,5 ; 75\% ; \frac{3}{5} ; \frac{1}{4} ; 15\%$   
 D.  $2,5 ; \frac{1}{4} ; 75\% ; \frac{3}{5} ; 15\%$
- Ibu membeli 5 bungkus beras. Berat tiga bungkus beras masing-masing  $2\frac{4}{5}$  kg, dan dua bungkus lainnya masing-masing  $3\frac{3}{4}$  kg. Beras tersebut akan dibagikan kepada tiga kepala keluarga yang kurang mampu dengan pembagian sama banyak. Beras yang diterima setiap kepala keluarga adalah ... kg.  
 A. 5,3  
 B. 6,5  
 C. 8,4  
 D. 15,9
- Bu Azka membeli tas seharga Rp150.000,00. Tas tersebut dijual lagi dengan mendapatkan untung Rp30.000,00. Besar keuntungan yang diperoleh Bu Azka adalah ...  
 A. 25 %  
 B. 20 %  
 C. 15 %  
 D. 10 %
- Faktorisasi prima dari 252 adalah ...  
 A.  $3 \times 4 \times 7$   
 B.  $3^2 \times 4 \times 7$   
 C.  $2 \times 3^2 \times 7$   
 D.  $2^2 \times 3^2 \times 7$
- FPB dan KPK dari 15 dan 90 adalah ...  
 A. 5 dan 90                      C. 15 dan 90  
 B. 5 dan 180                     D. 15 dan 180

9. Jarak kota Bogor dan Sukabumi pada peta berskala 1 : 500.000 adalah 20 cm. Jarak kota Bogor dan Sukabumi sebenarnya adalah ...

- A. 40 km
- B. 100 km
- C. 250 km
- D. 520 km

10. Usia Azam : usia Husein : usia Dzaky = 3 : 7 : 9. Jika jumlah usia Azam dan Dzaky 36 tahun, maka usia Husein adalah ...

- A. 3 tahun
- B. 9 tahun
- C. 21 tahun
- D. 27 tahun

11.  $4^2 \times \sqrt{625} = \dots$

- A. 60
- B. 100
- C. 240
- D. 400

12. Pada suatu lomba renang, juara pertama mencetak waktu 1 menit 53 detik, sedangkan juara kedua mencetak waktu 2 menit 8 detik. Selisih waktu antara juara pertama dan juara kedua pada lomba renang tersebut adalah ... detik.

- A. 7
- B. 8
- C. 15
- D. 55

13.  $600 \text{ kg} + 5 \text{ kuintal} + 3 \frac{1}{2} \text{ ton} = \dots \text{ kuintal}$ .

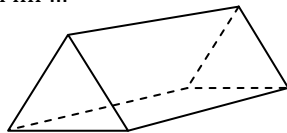
- A. 14,5
- B. 46
- C. 68,5
- D. 100

14.  $5 \text{ ha} + 800 \text{ ca} = \dots \text{ dam}^2$ .

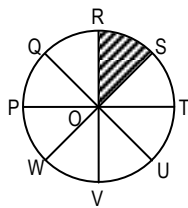
- A. 805
- B. 580
- C. 508
- D. 85

15. Banyak sisi yang berbentuk persegi panjang pada bangun di bawah ini ...

- A. 5
- B. 4
- C. 3
- D. 2

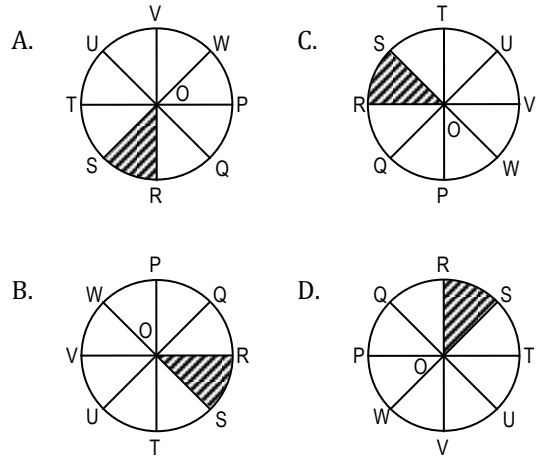


16. Hasil pencerminan bangun ROS terhadap garis PT adalah ...

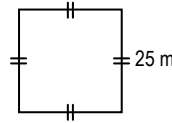


- A. QOR
- B. UOV
- C. VOW
- D. WOP

17. Bangun pada soal nomor 16 di atas jika diputar  $180^\circ$ , maka menjadi ...



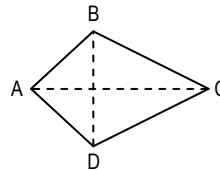
18. Sebuah lapangan digambarkan seperti berikut:



Keliling lapangan tersebut ... meter.

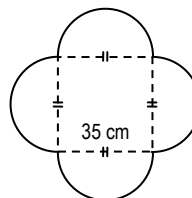
- A. 625
- B. 225
- C. 100
- D. 50

19. Bila  $AC = 28 \text{ cm}$  dan  $BD = 14 \text{ cm}$ , maka luas bangun ABCD adalah ...



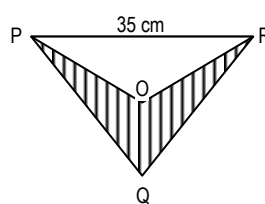
- A.  $392 \text{ cm}^2$
- B.  $196 \text{ cm}^2$
- C.  $131 \text{ cm}^2$
- D.  $98 \text{ cm}^2$

20. Keliling bangun di samping ... cm.



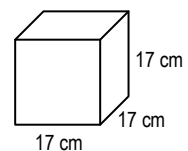
- A. 1.225
- B. 360
- C. 220
- D. 110

21. Tinggi segitiga POR setengah dari tinggi segitiga PQR. Jika tinggi segitiga POR 15 cm, maka luas daerah yang diarsir ...



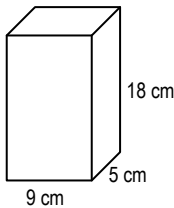
- A.  $1.050 \text{ cm}^2$
- B.  $787,5 \text{ cm}^2$
- C.  $525 \text{ cm}^2$
- D.  $262,5 \text{ cm}^2$

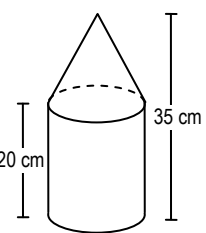
22. Luas permukaan bangun di samping ini adalah ...  $\text{cm}^2$ .



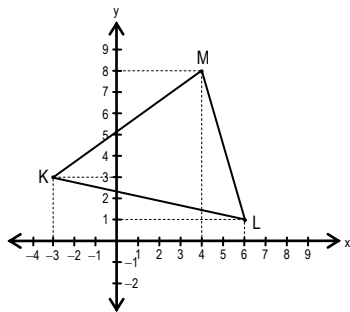
- A. 7.913
- B. 1.734
- C. 289
- D. 51

23. Jari-jari alas sebuah tabung 28 cm dan tingginya 21 cm. Luas permukaan tabung tersebut adalah ...  
 A. 8.624  
 B. 8.264  
 C. 23.408  
 D. 24.308

24.  Volum prisma segiempat di samping adalah ... cc.  
 A. 405  
 B. 594  
 C. 810  
 D. 1.620

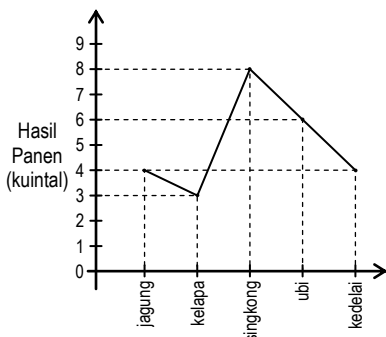
25.  Luas alas bangun di samping ini 314 cm<sup>2</sup>, maka volum bangun seluruhnya ... cm<sup>3</sup>  
 A. 4.710  
 B. 7.850  
 C. 9.420  
 D. 14.130

26. Perhatikan grafik cartesius berikut ini!



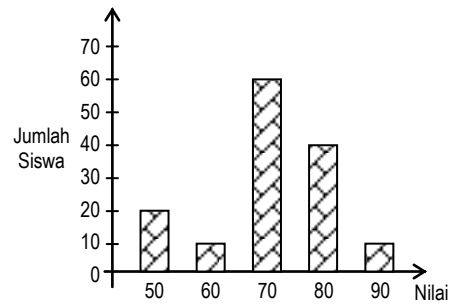
- Koordinat titik K, L, dan M berturut-turut adalah ...  
 A. (-3,3) ; (6,1) ; (4,8)  
 B. (3,-3) ; (6,1) ; (4,8)  
 C. (3,-3) ; (1,6) ; (8,4)  
 D. (-3,3) ; (1,6) ; (8,4)

27. Data hasil panen kebun Pak Jamil sebagai berikut :



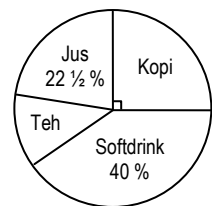
- Total panen jagung dan kedelai dari kebun Pak Jamil adalah ... kg.  
 A. 1.000  
 B. 800  
 C. 600  
 D. 400

28. Hasil ulangan IPA siswa kelas IV SD Al-Falah :



- Banyaknya siswa kelas IV SD Al-Falah yang memperoleh nilai di atas 65 adalah ...  
 A. 50 orang  
 B. 110 orang  
 C. 240 orang  
 D. 350 orang

29. Diagram di samping menunjukkan data minuman kesukaan 600 orang. Banyaknya orang yang menyukai teh adalah ...  
 A. 75  
 B. 135  
 C. 150  
 D. 240



30. Rata-rata nilai ulangan Matematika 6 orang siswa adalah 65. Jika nilai ulangan Zahra 100 dimasukkan ke dalam data, maka nilai rata-ratanya menjadi ...  
 A. 80  
 B. 75  
 C. 70  
 D. 65

**BAHASA INDONESIA**

**Teks untuk soal nomor 31 s.d. 36**

Mulai Kamis (14/2) lalu, Ustadz Muhammad Arifin Ilham bakal mengunjungi desa-desa di Kalimantan Tengah, Kaltim, dan Kalsel. "Insya Allah Arifin dan empat ikhwan fillah akan menempuh perjalanan dakwah terjauh dan terlama keliling pedalaman Kalimantan sembilan kabupaten selama 14 hari," ungkap pimpinan Majelis Zikir Az-Zikra ini melalui *short message service* (SMS) yang diterima Republika Kamis (14/2).

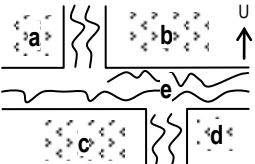
Beberapa daerah pedalaman yang bakal dikunjungi, menurut Arifin, antara lain Pemuang Hulu, Sampit, Palangkaraya, Bunto, Amuntai, Tapin, Banjar Baru, dan Pulang Pisau. Selama ini, katanya, sudah 398 kabupaten yang ditembusnya untuk kegiatan dakwah. "Insya Allah dengan adanya sembilan daerah pedalaman di Kalteng, Kaltim, dan Kalsel, akan semakin banyak lagi daerah-daerah yang bisa kita sapa untuk kegiatan dakwah."

Bekal terpenting apa yang dipersiapkan untuk kegiatan dakwah terjauh dan terlama ini? "Vitamin ikhlas merupakan bekal yang paling mujarab. Selain itu, kita juga memiliki vitamin yang lainnya

berupa menjaga amalan sunnah yang tujuh serta memperkuat fisik dengan silaturahmi,” ujarnya berfilosofi.

Penggerak kegiatan Subuh Keliling ini mengaku sangat senang dengan kegiatan dakwah di pedalaman Kalimantan. “Arifin bisa banyak bertemu ulama-ulama langit yang selama ini terkenal sangat wara, zuhud, rendah hati, dan sangat terkenal sebagai ulama tauladan yang benar-benar layak dijadikan contoh, “ungkap Arifin.

31. Judul yang tepat untuk bacaan di atas adalah...
- Dakwah ke Pedalaman
  - Ustadz Arifin Ilham adalah Seorang Ulama
  - Orang yang Melakukan Dakwah
  - Pengacara Terkenal
32. Siapakan Ustadz Arifin Ilham ?  
Jawaban yang tidak tepat dari pertanyaan di atas adalah...
- Pimpinan Majelis Az-Zikra
  - Pengacara terkenal
  - Orang yang melakukan dakwah
  - Ulama yang berdakwah
33. Bagaimana perasaan Ustadz Arifin Ilham ketika akan berdakwah di pedalaman ?
- bingung
  - biasa saja
  - kecewa
  - sangat senang
34. Mengapa Ustadz Arifin Ilham sangat senang dengan kegiatan dakwah di pedalaman Kalimantan ?
- Karena ingin terkenal.
  - Karena ingin kaya.
  - Karena ingin jalan-jalan.
  - Karena bisa bertemu ulama-ulama.
35. Ide pokok paragraf kedua adalah...
- Daerah pedalaman di Kalimantan.
  - Bekal kegiatan dakwah.
  - Daerah pedalaman yang bakal dikunjungi.
  - Ustaz Arifin sebagai teladan.
36. Tanggapan yang tepat sesuai isi teks di atas adalah...
- Kegiatan dakwah yang dilakukan Ustaz Arifin hanya mengisahkan diri sendiri.
  - Sebaiknya kegiatan tersebut cukup diadakan di kota besar saja.
  - Kegiatan dakwah dapat dilakukan melalui sarana elektronik seperti televisi.
  - Masyarakat di daerah pedalaman masih memerlukan bimbingan ajarannya.

37. 
- Sawah Pak Karim
  - Sawah Pak Yudi
  - Sawah Pak Mulyadi
  - Sawah Pak Doni
  - Saluran Irigasi

Berdasarkan denah di atas, sawah Pak Doni terletak di...

- sebelah sawah Pak Karim.
- sebelah utara sawah Pak Mulyadi.
- sebelah selatan sawah Pak Yudi.
- sebelah utara sawah Pak Yudi.

#### Cerita berikut untuk soal nomor 38 s.d. 41.

Tersebutlah dua orang perampok yang sangat terkenal di sebuah daerah. Namanya adalah Babe dan Belan. Keduanya bersaudara. Daerah kekuasaan mereka sangat luas. Daerah itu sering disebut sebagai daerah Babebelan. Namun kemudian sering disingkat menjadi Babelan.

Babe dan Belan sangat kejam. Rakyat yang tidak mau membayar pajak untuknya langsung dihukum mati. Melihat hal ini, rakyat melawan. Tetapi, mereka kalah. Babe dan Belan memang sangat sakti.


Suatu hari, di daerah Babelan kedatangan wanita yang cantik. Babe menyukai wanita itu. Begitu juga Belan. Mereka pun saling berkelahi memperebutkan wanita itu hingga keduanya tewas.

Setelah itu, daerah Babelan pun menjadi aman. Tapi, masyarakatnya tetap tidak tahu siapakah wanita misterius yang telah membebaskan mereka dari kekuasaan Babe dan Belan.

38. Latar cerita di atas adalah...
- Babelan
  - hutan
  - aman
  - desa
39. Amanat cerita di atas adalah..
- Ada dua rampok yang sangat terkenal.
  - Jadilah orang yang baik dan bermanfaat bagi orang lain!
  - Jangan mengganggu perampok yang kejam!
  - Jadilah orang yang selalu menyayangi anak yatim!
40. Watak tokoh wanita pada cerita di atas adalah...
- pandai bergaul
  - pendiam
  - pendendam
  - misterius
41. Ringkasan cerita di atas adalah...
- Daerah Babelan adalah daerah yang subur dan masyarakatnya sejahtera.
  - Daerah Babelan dulu dikuasai perampok bernama Babe dan Belan. Namun, berkat pertolongan seorang wanita, kini Babelan telah aman.
  - Babelan adalah daerah yang ramai dikunjungi oleh para pedagang dari luar dan dalam kota.
  - Daerah Babelan dikaitkan dengan dua perampok yang terkenal yaitu Babe dan Belan yang saat ini masih berkuasa.

42. Ariel : "Ayah, ajari aku PR IPA!" (1)  
Ayah : "Baiklah. Soal nomor berapa yang belum kamu kuasai?" (2)  
Ariel : "Soal nomor 3, Yah." (3)  
Ayah : "Oh, begini caranya..." (4)  
Kalimat permintaan terdapat pada kalimat nomor...  
A. 1  
B. 2  
C. 3  
D. 4
43. 1. Dilarang membawa HP ke dalam kelas!  
2. Dilarang membawa benda tajam ke dalam kelas!  
3. Dilarang membawa *softdrink* ke dalam kelas!  
Tata tertib di atas berisi...  
A. Larangan membawa alat-alat elektronik bagi siswa.  
B. Anjuran untuk membawa makanan dan minuman ke dalam kelas.  
C. Larangan untuk menggunakan HP, benda tajam, dan *softdrink* di dalam kelas.  
D. Anjuran untuk tidak membawa HP, benda tajam, dan *softdrink* ke dalam kelas.
44. 

<b>FORMULIR ANGGOTA TARUNG DERAJAT AA BOXER</b>	
1. Nama Lengkap	: .....
2. Tempat, tanggal lahir	: .....
3. Pendidikan	: .....
4. Alamat	: .....
5. Nomor HP	: .....
- Data :  
1. Salman Abimanyu  
2. 0815 3394 57688912  
3. SMP  
4. Cirebon, 24 Juli 1994  
5. Jalan Jatijajar, Pakupatan, Cirebon.  
Urutan data yang tepat sesuai formulir adalah...  
A. 1 - 4 - 3 - 5 - 2  
B. 1 - 4 - 3 - 2 - 5  
C. 1 - 4 - 5 - 2 - 3  
D. 1 - 2 - 5 - 4 - 3
45. Para siswa dapat menjadi guru pegawai swasta pegawai pemerintah pengusaha dan ulama jika sudah besar nanti.  
Kalimat di atas dapat dilengkapi dengan tanda baca berikut agar mudah dipahami, yaitu...  
A. titik (.)  
B. titik koma (;)  
C. koma (,)  
D. titik dua (:)
46. 1. Rumah Pak Sunandar sangat luas.  
2. Halamannya sempit.  
Kata penghubung yang tepat untuk menggabungkan dua kalimat tunggal di atas menjadi kalimat majemuk adalah...  
A. dan  
B. atau  
C. tetapi  
D. lalu
47. 1. Siapkan alat tulis!  
2. Bacalah soal yang dianggap mudah terlebih dahulu!  
3. Pilihlah jawaban A, B, C, atau D yang kamu anggap paling benar!  
Petunjuk di atas berisi...  
A. Cara mengisi hasil wawancara.  
B. Cara menulis karangan.  
C. Cara melukis di kanvas.  
D. Cara mengerjakan soal ulangan.
48. Kamar Istichory sangat nyaman. Udara segar dapat masuk melalui ventilasi yang cukup besar. Tempat tidur dan lemari tertata rapi. Di pojok ruangan terdapat meja belajar dan seperangkat komputer.  
Kalimat utama paragraf di atas adalah...  
A. Di pojok ruangan terdapat meja komputer.  
B. Udara segar dapat masuk melalui ventilasi yang cukup besar.  
C. Tempat tidur dan lemari tertata rapi.  
D. Kamar Istichory sangat nyaman.
49. Anda memasuki kawasan wajib helm. Sinonim kata bergaris bawah adalah...  
A. kekuasaan  
B. daerah  
C. keharusan  
D. militer
50. Sikap dan perbuatan tercela yang dilakukan anak itu... nama baik keluarganya.  
Kata berimbuhan yang tepat untuk melengkapi kalimat di atas adalah...  
A. menyiarkan  
B. mencemaskan  
C. mengkhawatirkan  
D. mencemarkan
51. Joel : "Mengapa kamu murung?"  
Heru : "Kakakku sakit."  
Beni : "Sakit apa?"  
Heru : "Hepatitis."  
Joel : "Lalu, bagaimana keadaannya sekarang?"  
Heru : "Ia dirawat di rumah sakit. Kata dokter, ia akan dirawat selama satu bulan."  
Beni : "Semoga kakakmu cepat sembuh."
- Tema percakapan di atas adalah...  
A. Heru sakit dan dirawat di rumah sakit.  
B. Beni adalah seorang dokter yang baik.  
C. Kesedihan Heru karena kakaknya sakit.  
D. Joel mendoakan Kakak Heru.

52. 1. Mereka bernama Hang Tuah, Hang Lekir, Hang Jebat, dan Hang Kesturi.  
 2. Di tanah Melayu terdapat empat pemuda yang gagah berani.  
 3. Mereka hendak pergi ke Malaka.  
 4. Bahan makanan telah disiapkan.  
 5. Berangkatlah mereka dengan perahu layar mengarungi lautan luas.  
 Urutan yang tepat agar menjadi paragraf yang padu yaitu...
- A. 2, 1, 3, 4, 5  
 B. 2, 3, 4, 5, 1  
 C. 1, 2, 3, 4, 5  
 D. 2, 3, 4, 5, 1
53. rina berlibur di rumah nenek asih di kaki gunung lawu.  
 Kata yang seharusnya ditulis dengan huruf kapital adalah...
- A. Rina, Nenek, Asih, Kaki, Gunung.  
 B. Rina, Nenek, Asih, Gunung, Lawu.  
 C. Rina, Asih, Kaki, Gunung, Lawu.  
 D. Rina, Rumah, Nenek, Gunung, Lawu.
54. Penggunaan tanda koma yang benar terdapat pada kalimat...
- A. Rina menyukai buah, rambutan, salak, dan apel.  
 B. Rina menyukai buah, rambutan salak dan apel.  
 C. Rina menyukai buah rambutan, salak, dan apel.  
 D. Rina, menyukai buah, rambutan, salak dan apel.
55. Kalimat yang menggunakan tanda seru dengan tepat adalah...
- A. Kakek Ma'ruf sedang tidur!  
 B. Tinggallah sebentar di sini!  
 C. Siapa yang datang ke rumahku!  
 D. Ani pergi ke pasar!
56. Naik perahu mengurangi samudera  
 Singgah sebentar di negeri Aceh  
 .....  
 .....  
 Kalimat yang tepat sebagai isi pantun di atas adalah...
- A. Kalau kamu ingin bahagia  
 Carilah uang yang banyak  
 B. Kalau kamu ingin bahagia  
 Teruslah beribadah dan beramal saleh  
 C. Kalau kamu tidak betah  
 Kembalilah ke Samudera  
 D. Di Aceh banyak belanja  
 Yang bisa dibawa sebagai oleh-oleh.
57. .... kucing berteduh di bawah pohon. Kelinci masuk ke semak-semak. Burung-burung hinggap di dahan pohon rindang.  
 Kalimat topik yang tepat untuk melengkapi paragraf di atas adalah...
- A. Harimau mengaum keras.  
 B. Sekelompok anak kecil sedang berlari-lari santai.  
 C. Matahari terbit di ufuk timur.  
 D. Udara hari itu sangat panas.
58.  Kalimat poster yang tepat berdasarkan gambar di atas adalah...
- A. Cucilah tangan sebelum makan!  
 B. Air adalah sumber kehidupan.  
 C. Semua makhluk hidup butuh air.  
 D. Masaklah air sebelum dikonsumsi.
59. Karena hujan sangat deras, Andri tidak masuk sekolah. Ia lebih memilih untuk bermain *video game* di rumah.  
 Kalimat anjuran yang tepat untuk Andri adalah...
- A. Sebaiknya Andri tidur saja daripada bermain.  
 B. Seharusnya Andri memeriksakan dirinya ke dokter.  
 C. Sebaiknya Andri mengulang pelajaran di rumah atau membaca buku.  
 D. Andri harus masuk sekolah karena hujan turun sangat deras.
60. Seperti tak ada habisnya, serangan penyakit demam berdarah dengue (DBD) terus mengintai warga. Akibat sengatan nyamuk *Aedes Aegypti* penyebab penyakit ini, dalam sepekan terakhir dua warga di Jakarta Timur meninggal dunia.  
 Teks di atas berisi tentang...
- A. penyebab penyakit  
 B. serangan DBD  
 C. pengintaian warga  
 D. warga meninggal akibat bencana alam
61. (1) Warga perumahan Cimone Alam Permai terletak bersebelahan dengan pabrik pengolahan makanan (koko dan pengolahan gula). Kedua pabrik tersebut berada di Jl Dipati Unus, Kota Tangerang. Sugiarti terpaksa harus membeli air bersih untuk kebutuhan air minum. "Satu kompartemen (jeriken) harganya Rp1000,00."  
 (2) Wali Kota Bogor, Diani Budiarto, mengakui kelemahan jajarannya menata pedagang kaki lima (PKL) khususnya yang beroperasi di tiga ruas jalan di Kota Bogor, yakni Jl. Dewi Sartika, Jl. Nyi Raja Permas, dan M.A. Salmun.  
 (3) Menurutnya aturan mengenai penataan PKL udah jelas dan penegakan hukum dilakukan. "Kalau masih ada yang berjualan di lokasi yang bukan diperuntukkan PKL mungkin ada aparat yang kurang tegas. Aparat itu bisa dimutasi

- ke bagian lainnya," kata Diani usai rapat dengan DPRD Kota Bogor membahas penataan PKL, Jumat (14/2).
- (4) Trotoar pada dasarnya digunakan untuk pejalan kaki. Namun, kondisi trotoar saat ini sudah tidak berfungsi sebagaimana mestinya. Para pedagang kaki lima (PKL) telah menggunakannya untuk berdagang sehingga mengganggu para pejalan kaki dan membuat jalan tambah macet.
- Paragraf bertema sama terdapat pada paragraf nomor...
- A. 1, 2, 3  
B. 1, 3, 4  
C. 2, 3, 4  
D. 1, 2, 4

### Teks untuk nomor 62 dan 63

Di tepi sungai, hiduplah seekor katak yang sombong. Suatu hari, ia melihat anak-anak serangga sedang bermain di pinggir sungai. "Aku akan memakanmu," kata Kodok. "Jangan makan kami! Kami hanya mau minum air sungai," kata anak-anak serangga.

Tapi kodok tidak peduli. Dia memakan seluruh anak serangga. Ular yang sejak tadi memperhatikan si kodok, keluar dari persembunyiannya. Ia langsung menerkam kodok.

"Jangan makan aku!" kata Kodok. Tapi, ular tidak peduli. Ia berusaha menelan kodok. Untunglah sekelompok serangga datang dan menggigiti tubuh ular. Ular pun kesakitan lalu pergi melepaskan kodok.

Kodok minta maaf kepada para serangga dan berjanji untuk tidak sombong lagi.

62. Latar cerita di atas adalah...
- A. tepi sungai  
B. tengah sungai  
C. hutan  
D. kebun
63. Tokoh utama dongeng di atas adalah...
- A. Kodok  
B. Anak serangga  
C. Ular  
D. Serangga
64. Tanda baca yang tepat terdapat pada kalimat...
- A. Irfan : "Dari mana? Dan hendak ke mana?"  
Ita : "Dari rumah. Saya mau pergi ke Tanah Abang!"
- B. Irfan : "Dari mana dan mau ke mana?"  
Ita : "Dari rumah. Saya mau ke Tanah Abang."
- C. Irfan, "Dari mana dan mau ke mana?"  
Ita, "Dari rumah. Saya mau pergi ke Tanah Abang."
- D. Irfan : "Di mana dan hendak ke mana?"  
Ita : "Dari rumah, saya mau pergi ke Tanah Abang."

65. Datanglah... tempat kami yang berlokasi... Jalan Sudirman.  
Kata depan yang tepat untuk melengkapi kalimat di atas adalah...

A. di, di  
B. ke, di  
C. dari, di  
D. ke, dari

66. Fauzi membeli mobil secara kredit.  
Antonim kata kredit adalah...

A. cicil  
B. angsur  
C. tunai  
D. utang

67.



Kalimat iklan yang tepat berdasarkan poster di atas adalah...

- A. Nikmati hidangan khas Sunda dengan resep tradisional.  
B. Pas dipakai, pas sesuai selera Anda.  
C. Rumah Makan Cibiuk berlokasi di Jalan Sudirman, Jakarta.  
D. Setiap orang yang belum makan hendaknya makan di Rumah Makan Cibiuk.

68. Penggunaan kata ulang yang tepat terdapat pada kalimat...

- A. "Agar perjalanan kerepa api lancar dan orang-orang bisa sampai dengan selamat," jawab Pak Ifni.  
B. Anaknya menanyakan-menanya masalah kereta api.  
C. "Mengapa kereta api dikemudikan oleh seorang masinis-masinis?" tanyanya.  
D. Suatu hari, Pak Ifni duduk santai bersama anaknya di depan rumah-rumahan.

69. Setiap hari, jika hendak bekerja ke Bogor, Pak Muhdi naik kereta api Jabotabek. Menurut Pak Muhdi, naik kereta api lebih aman. Ongkosnya pun lebih murah.

Pertanyaan yang jawabannya terdapat pada teks di atas adalah...

- A. Mengapa Pak Muhdi bekerja di Bogor?  
B. Mengapa Pak Muhdi naik kereta ke tempat kerjanya?  
C. Siapa yang mengendalikan kereta?  
D. Bagaimana Pak Muhdi bisa tahu kereta yang bertarif murah?

70. Mereka ... program desa bersih.  
Kata berimbuhan yang tepat untuk melengkapi kalimat rumpang di atas adalah...

A. mensukseskan  
B. mengsucceskan  
C. menyukseskan  
D. menyucceskan